





Question Image	Questions	ID
	<p>كوكب زحل يعتبر من الكواكب الصخرية</p> <p>_____</p> <p>.A صح</p> <p>.B خطأ</p>	1 
	<p>النظام الشمسي يتكون من الشمس وتوابعها فقط</p> <p>_____</p> <p>.A صح</p> <p>.B خطأ</p>	2 
	<p>الكواكب هي كتل صخرية كبيرة يوجد منها الآلاف في النظام الشمسي</p> <p>_____</p> <p>.A صح</p> <p>.B خطأ</p>	3 
	<p>عدد الكواكب في مجموعتنا الشمسية هي تسعة كواكب</p> <p>_____</p> <p>.A صح</p> <p>.B خطأ</p>	4 
	<p>أي من الصور التالية يمثل المذنب ؟</p>	5 

		
	<p>أي من الكواكب التالية هو كوكب المشتري</p> 	<p>6</p> 
	<p>أي من الكواكب الآتية يمثل كوكب المريخ؟</p> 	<p>7</p> 
	<p>أي من الصور التالية تمثل المجرة؟</p>	<p>8</p> 

		
	<p>أي مما يأتي من الكواكب الغازية؟ _____</p> <p>A. زحل</p> <p>B. الزهرة</p> <p>C. الأرض</p> <p>D. المريخ</p>	<p>9</p> 
	<p>من هو العالم الذي بين أن مدارات الكواكب إهليجية؟ _____</p> <p>A. إسحاق نيوتن</p> <p>B. كوبرنيكوس</p> <p>C. كبلر</p> <p>D. روبرت هوك</p>	<p>10</p> 

	<p>11 ما هي فائدة المقراب؟ _____</p> <p>A. يجعل الأجسام الكبيرة تبدو صغيرة</p> <p>B. يجعل الأجسام البعيدة تبدو قريبة</p> <p>C. يجعل الأجسام القريبة تبدو بعيدة</p> <p>D. كل الإجابات صحيحة</p>	<p>11</p> <p><input type="radio"/> <input type="radio"/> <input type="radio"/> <input type="radio"/></p>
	<p>12 ..... يتكون المذنب من _____</p> <p>A. صخور</p> <p>B. جليد</p> <p>C. غبار</p> <p>D. كل الإجابات صحيحة</p>	<p>12</p> <p><input type="radio"/> <input type="radio"/> <input type="radio"/> <input type="radio"/></p>
	<p>13 أي من الكواكب التالية هي كواكب صخرية؟ _____</p> <p>A. كوكب زحل</p> <p>B. كوكب الزهرة</p> <p>C. كوكب المشتري</p> <p>D. كوكب المريخ</p>	<p>13</p> <p><input type="radio"/> <input type="radio"/> <input type="radio"/> <input type="radio"/></p>
	<p>14 أي من الأجسام التالية يعتبر تابع للأرض؟ _____</p> <p>A. القمر</p> <p>B. الأقمار الاصطناعية</p> <p>C. مذنب هالي</p> <p>D. كوكب زحل</p>	<p>14</p> <p><input type="radio"/> <input type="radio"/> <input type="radio"/> <input type="radio"/></p>

	<p>أي مما يأتي من العوامل المعيقة للرؤية بالمقاريب الأرضية؟ _____</p> <p>A. النباتات</p> <p>B. الغيوم</p> <p>C. أضواء المدينة</p> <p>D. الظلام</p>	<p>15</p> 
	<p>أي مما يأتي من الأجسام التي تدور حول الشمس؟ _____</p> <p>A. المجرة</p> <p>B. المذنبات</p> <p>C. الكويكبات</p> <p>D. النجوم</p>	<p>16</p> 
	<p>أوصل إسم كل عالم من هؤلاء العلماء بالإنجاز الذي قام به</p> <p>Match Choice</p> <p>جاليليو إستعمل المقراب للنظر في الفضاء</p> <p>إسحاق نيوتن إستنتج أن الكواكب تدور حول الشمس</p> <p>كبلر بين أن مدارات الكواكب إهليجية</p> <p>كوبرنيكوس وصف كيف تبقى الكواكب في مدارها حول الشمس</p>	<p>17</p> 
	<p>أوصل كل جرم سماوي بتابعه فيما يأتي</p> <p>Match Choice</p> <p>كوكب زحل (أيو) قمر من أقمار المشتري</p>	<p>18</p> 

	<p>كوكب المريخ      كوكب الأرض</p> <p>(تايتان) (قمر من أقمار زحل)</p> <p>القمر      الشمس</p>	
	<p>أوصل كل كلمة في العمود الأول بما يناسبها في العمود الثاني</p> <p>Match      Choice</p> <p>كوكب      الشمس</p> <p>مجرة      درب التبانة</p> <p>نجم      هالي</p> <p>مذنب      أورانوس</p>	<p>19</p> 
	<p>أوصل الكلمات في العمود الأول بما يناسبها في العمود الآخر</p> <p>Match      Choice</p> <p>الكواكب الصخرية      مكونة من الصخور ولها لب صلب مكون من الحديد</p> <p>القمر      يشكل ذبلا من الغبار والغاز عندما يقترب من الشمس</p> <p>المذنب      تقع في حزام بين المريخ والمشتري</p> <p>الكويكبات      التابع الطبيعي الوحيد لكوكب الأرض</p>	<p>20</p> 